

ΠΑΝΕΛΛΑΔΙΚΕΣ ΕΞΕΤΑΣΕΙΣ
ΗΜΕΡΗΣΙΩΝ & ΕΣΠΕΡΙΝΩΝ ΓΕΝΙΚΩΝ ΛΥΚΕΙΩΝ
ΤΕΤΑΡΤΗ 8 ΙΟΥΝΙΟΥ 2022
ΕΞΕΤΑΖΟΜΕΝΟ ΜΑΘΗΜΑ: ΧΗΜΕΙΑ ΠΡΟΣΑΝΑΤΟΛΙΣΜΟΥ
ΣΥΝΟΛΟ ΣΕΛΙΔΩΝ: ΠΕΝΤΕ (5)

ΘΕΜΑ Α

Για τις προτάσεις **A1** έως και **A5** να γράψετε στο τετράδιό σας τον αριθμό της πρότασης και δίπλα το γράμμα που αντιστοιχεί στη σωστή επιλογή.

A1. Από τις παρακάτω ηλεκτρονιακές δομές αντιστοιχεί σε παραμαγνητικό στοιχείο η:

- α. $1s^2$.
- β. $1s^2 2s^2 2p^6$.
- γ. $1s^2 2s^2 2p^4$.
- δ. $1s^2 2s^2 2p^6 3s^2 3p^6 4s^2$.

Μονάδες 5

A2. Ενδόθερμη αντίδραση είναι η:

- α. $C(s) + O_2(g) \rightarrow CO_2(g)$.
- β. $2H_2(g) + O_2(g) \rightarrow 2H_2O(g)$.
- γ. $Mg(g) \rightarrow Mg^+(g) + e^-$.
- δ. $NaOH(aq) + HCl(aq) \rightarrow NaCl(aq) + H_2O(l)$.

Μονάδες 5

A3. Από τα παρακάτω διαλύματα ρυθμιστικό είναι:

- α. $NaOH$ 0,1M – $NaCl$ 0,1M.
- β. $NaCN$ 1M – HCN 1M.
- γ. KCN 0,1M – $NaCN$ 1M.
- δ. $NaOH$ 0,1M – NH_3 0,1M.

Μονάδες 5

A4. Η οργανική ένωση που αντιδρά με διάλυμα $I_2 / NaOH$ προς σχηματισμό κίτρινου ιζήματος είναι η:

- α. CH_3COOH .
- β. $HCHO$.
- γ. CH_3COCH_3 .
- δ. $CH_3CH_2CH_2OH$.

Μονάδες 5

ΑΡΧΗ 2ΗΣ ΣΕΛΙΔΑΣ
ΗΜΕΡΗΣΙΩΝ & ΕΣΠΕΡΙΝΩΝ ΓΕΝΙΚΩΝ ΛΥΚΕΙΩΝ

- A5. Ο σ δεσμός μεταξύ των $\overset{1}{\text{C}}$ και $\overset{2}{\text{C}}$ στην ένωση $\overset{4}{\text{C}}\text{H}_3\overset{3}{\text{C}}\overset{2}{\text{H}}_2\overset{1}{\text{C}}\text{OOH}$ σχηματίζεται με επικάλυψη υβριδικών τροχιακών:
- α. $sp^2 - sp^3$.
 - β. $sp - sp^3$.
 - γ. $sp - sp$.
 - δ. $sp^2 - sp^2$.

Μονάδες 5

ΘΕΜΑ Β

- B1. Διαθέτουμε διάλυμα HCOOH συγκέντρωσης 0,1 M. Να εξηγήσετε πώς μεταβάλλονται (αυξάνονται/μειώνονται/παραμένουν σταθερά) τα μεγέθη: βαθμός ιοντισμού (α) και συγκέντρωση οξωνίων $[\text{H}_3\text{O}^+]$, όταν:

- α. προσθέσουμε H_2O . (μονάδες 2)
- β. προσθέσουμε αέριο HCl, χωρίς μεταβολή όγκου. (μονάδες 4)

Τα δεδομένα του προβλήματος επιτρέπουν τις γνωστές προσεγγίσεις και η θερμοκρασία παραμένει σταθερή.

Μονάδες 6

- B2. α. Να γίνει ηλεκτρονιακή δόμηση σε υποστιβάδες των ${}^8\text{O}$, ${}^{15}\text{P}^{3-}$, ${}^{16}\text{S}$, ${}^{16}\text{S}^{2-}$. (μονάδες 4)
- β. Να κατατάξετε κατά αύξουσα σειρά μεγέθους τα παραπάνω άτομα και ιόντα (μονάδα 1) αιτιολογώντας την απάντησή σας. (μονάδες 3)

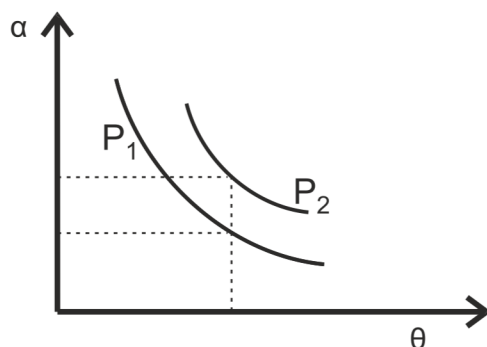
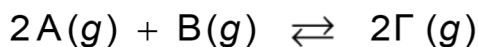
Μονάδες 8

- B3. Διαθέτουμε δύο διαλύτες, H_2O και CCl_4 . Να εξηγήσετε σε ποιον διαλύτη μπορούν να διαλυθούν καλύτερα οι ακόλουθες χημικές ενώσεις:

- α. KCl.
- β. C_6H_{14} (εξάνιο).
- γ. CH_3OH .

Μονάδες 6

- B4. Σε δοχείο μεταβλητού όγκου πραγματοποιείται η χημική ισορροπία:



ΤΕΛΟΣ 2ΗΣ ΑΠΟ 5 ΣΕΛΙΔΕΣ

ΑΡΧΗ 3ΗΣ ΣΕΛΙΔΑΣ
ΗΜΕΡΗΣΙΩΝ & ΕΣΠΕΡΙΝΩΝ ΓΕΝΙΚΩΝ ΛΥΚΕΙΩΝ

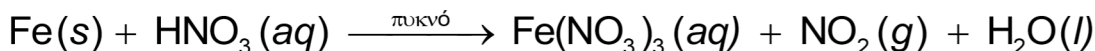
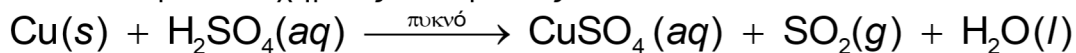
Στο παραπάνω διάγραμμα δίνονται δύο γραφικές παραστάσεις της απόδοσης α σε συνάρτηση με τη θερμοκρασία θ σε δύο διαφορετικές τιμές πίεσης P₁ και P₂.

- α. Να εξηγήσετε αν η αντίδραση είναι εξώθερμη ή ενδόθερμη. (μονάδες 2)
β. Να εξηγήσετε ποια από τις δύο πιέσεις P₁, P₂ είναι μεγαλύτερη. (μονάδες 3)

Μονάδες 5

ΘΕΜΑ Γ

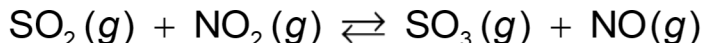
Γ1. Δίνονται οι παρακάτω χημικές αντιδράσεις:



- α. Να ισοσταθμιστούν οι αντιδράσεις. (μονάδες 2)
β. Να καθορίσετε το οξειδωτικό και αναγωγικό σώμα σε κάθε αντίδραση. (μονάδες 4)

Μονάδες 6

Γ2. Τα παραγόμενα αέρια SO₂ και NO₂ διοχετεύονται σε δοχείο σταθερού όγκου V = 1L και αποκαθίσταται η χημική ισορροπία:



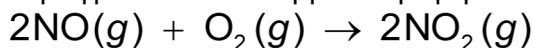
Αν στην κατάσταση χημικής ισορροπίας περιέχονται 0,2 mol SO₂, 0,6 mol NO₂, 0,6 mol SO₃ και 0,6 mol NO, να υπολογίσετε:

- α. τη σταθερά K_c της χημικής ισορροπίας. (μονάδες 2)
β. την απόδοση της αντίδρασης. (μονάδες 4)
γ. πόσα mol SO₂ πρέπει να προστεθούν επιπλέον στο αρχικό μίγμα SO₂ και NO₂ ώστε το SO₂ να βρεθεί σε περίσσεια και η απόδοση της αντίδρασης να παραμείνει η ίδια. (μονάδες 5)

Καθ' όλη τη διάρκεια των πειραμάτων η θερμοκρασία δεν μεταβάλλεται.

Μονάδες 11

Γ3. Το παραγόμενο αέριο NO διοχετεύεται σε δοχείο που περιέχει O₂. Στους 25° C και πίεση P = 1 atm πραγματοποιείται η μονόδρομη αντίδραση



για την οποία δίνονται τα παρακάτω πειραματικά δεδομένα:

πείραμα	[NO] _{αρχ} / mol·L ⁻¹	[O ₂] _{αρχ} / mol·L ⁻¹	υ _{αρχ} / mol·L ⁻¹ ·s ⁻¹
1	2 · 10 ⁻²	5 · 10 ⁻³	3,2 · 10 ⁻³
2	4 · 10 ⁻²	5 · 10 ⁻³	12,8 · 10 ⁻³
3	2 · 10 ⁻²	2,5 · 10 ⁻³	1,6 · 10 ⁻³

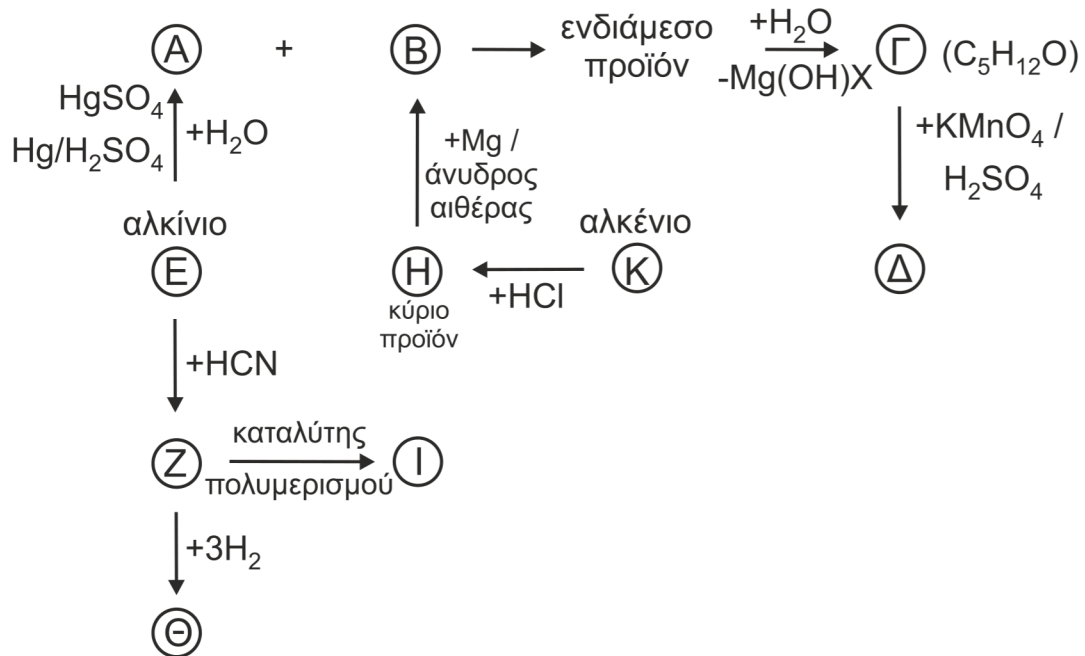
- α. Να γράψετε τον νόμο ταχύτητας της αντίδρασης. (μονάδες 5)
β. Να υπολογίσετε την αριθμητική τιμή της σταθεράς ταχύτητας της αντίδρασης και τις μονάδες της. (μονάδες 3)

Μονάδες 8

ΑΡΧΗ 4ΗΣ ΣΕΛΙΔΑΣ
ΗΜΕΡΗΣΙΩΝ & ΕΣΠΕΡΙΝΩΝ ΓΕΝΙΚΩΝ ΛΥΚΕΙΩΝ

ΘΕΜΑ Δ

Δ1. Να γράψετε τους συντακτικούς τύπους των οργανικών ενώσεων Α, Β, Γ, Δ, Ε, Ζ, Η, Θ, Ι και Κ.

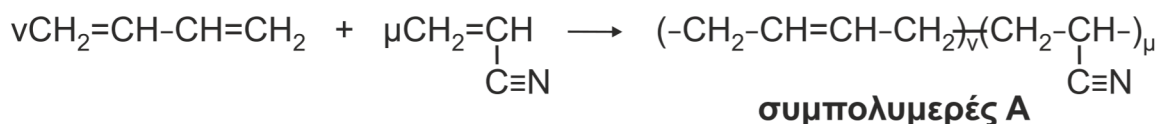


Μονάδες 10

Δ2. Υδατικό διάλυμα πρωτοταγούς αμίνης RNH₂ ογκομετρείται με πρότυπο διάλυμα HCl. Κατά την προσθήκη 20 mL διαλύματος HCl, η συγκέντρωση [OH⁻] στους 25° C βρέθηκε ίση με 8 · 10⁻⁴ M. Μετά την προσθήκη επιπλέον 40 mL διαλύματος HCl, η ογκομέτρηση καταλήγει στο ισοδύναμο σημείο. Να υπολογίσετε τη σταθερά ιοντισμού K_b της αμίνης.

Μονάδες 6

Δ3. Η βιομηχανία χρησιμοποιεί τον συμπολυμερισμό προκειμένου να βελτιώσει τις ιδιότητες των υλικών. Δίνεται η παρακάτω αντίδραση συμπολυμερισμού:



53,8 g του συμπολυμερούς Α διαλύονται σε κατάλληλο διαλύτη και προκύπτει διάλυμα όγκου 0,3 L, το οποίο παρουσιάζει ωσμωτική πίεση Π = 0,082 atm στους 27° C.

- i) Να βρεθεί η σχετική μοριακή μάζα (M_r) του συμπολυμερούς Α. (μονάδες 4)
- ii) Ακολούθως 5,38g του συμπολυμερούς Α αντιδρούν πλήρως με H₂ (η αντίδραση να θεωρηθεί ποσοτική) και διαλύονται σε νερό οπότε προκύπτει διάλυμα όγκου 50 mL, τα οποία απαιτούν για την πλήρη εξουδετέρωσή τους 20 mL πρότυπου διαλύματος HCl 1 M. Να υπολογίσετε τις τιμές ν και μ των μονομερών που σχηματίζουν ένα μόριο του συμπολυμερούς Α (μονάδες 3) καθώς και τη μάζα του H₂ που καταναλώθηκε. (μονάδες 2)

Μονάδες 9

ΑΡΧΗ 5ΗΣ ΣΕΛΙΔΑΣ
ΗΜΕΡΗΣΙΩΝ & ΕΣΠΕΡΙΝΩΝ ΓΕΝΙΚΩΝ ΛΥΚΕΙΩΝ

Δίνονται ότι:

- $A_r : H = 1, C = 12, N = 14$
- $R = 0,082 \text{ L} \cdot \text{atm} / \text{mol} \cdot \text{K}$
- $K_w = 10^{-14}$

Τα δεδομένα του προβλήματος επιτρέπουν τις γνωστές προσεγγίσεις.

ΟΔΗΓΙΕΣ (για τους εξεταζομένους)

1. **Στο εξώφυλλο** να γράψετε το εξεταζόμενο μάθημα. **Στο εσώφυλλο πάνω-πάνω** να συμπληρώσετε τα ατομικά στοιχεία μαθητή. **Στην αρχή των απαντήσεών σας** να γράψετε πάνω-πάνω την ημερομηνία και το εξεταζόμενο μάθημα. **Να μην αντιγράψετε** τα θέματα στο τετράδιο και **να μη γράψετε** πουθενά στις απαντήσεις σας το όνομά σας.
2. Να γράψετε το ονοματεπώνυμό σας στο πάνω μέρος των φωτοαντιγράφων, αμέσως μόλις σας παραδοθούν. **Τυχόν σημειώσεις σας πάνω στα θέματα δεν θα βαθμολογηθούν σε καμία περίπτωση.** Κατά την αποχώρησή σας, να παραδώσετε μαζί με το τετράδιο και τα φωτοαντίγραφα.
3. Να απαντήσετε **στο τετράδιό σας** σε όλα τα θέματα **μόνο** με μπλε ή **μόνο** με μαύρο στυλό με μελάνι που δεν σβήνει.
4. Κάθε απάντηση επιστημονικά τεκμηριωμένη είναι αποδεκτή.
5. Διάρκεια εξέτασης: τρεις (3) ώρες μετά τη διανομή των φωτοαντιγράφων.
6. Χρόνος δυνατής αποχώρησης: 10.00 π.μ.

**ΣΑΣ ΕΥΧΟΜΑΣΤΕ ΚΑΛΗ ΕΠΙΤΥΧΙΑ
ΤΕΛΟΣ ΜΗΝΥΜΑΤΟΣ**

ΤΕΛΟΣ 5ΗΣ ΑΠΟ 5 ΣΕΛΙΔΕΣ